



امتحانات أبنائنا في الخارج

ملف تقييم الأداء

باللغة العربية

الدور  
الثاني  
2026

الصف الأول الابتدائي

رقم الجلوس:

اسم الطالب:

سفارة جمهورية مصر العربية في دولة:

# إرشادات عامة

- يتم تحميل ملف التقييم للطالب باللغة العربية للطلاب المتقدمين على ( النظام العربي ) من خلال المنصة الالكترونية لأبنائنا في الخارج بوزارة التربية والتعليم :

<http://saboard.emis.gov.eg>

- يتم طباعة الملف ويقوم الطالب بالإجابة عن الأنشطة الموجودة.
- يتم رفع الملف بعد الانتهاء من الإجابة عليه على المنصة الالكترونية لأبنائنا في الخارج.
- يتم تحميل الملف ورفعها بعد استكمالها بداية من وضعها على المنصة ولمدة أسبوعين.
- لا يتم ارسال أية ملفات تقييم ورقية ، ويتم التعامل من خلال المنصة الالكترونية فقط
- يتم تحميل الملف ورفعها من خارج جمهورية مصر العربية فقط.

## النشاط الأول

اختر الحرف المناسب و أكمل الحرف الناقص : ( أ - م - ب )

..نَا \_ ..أَي \_ ..أَي

## النشاط الثاني

اقرأ ، ثم أجب : من درس " مَنْ لَوَّنَ الشَّوَارِعَ؟

"وأنا ذاهبة إلى المدرسة رأيت الأزهار ، حاولت قطف زهرة ."

اختر من بين القوسين :

١- "رأت فرح الأزهار وهي ذاهبة إلى ....." ( البيت - المدرسة - المكتبة )

٢- "حاولت فرح أن ..... زهرة ." ( تزرع - ترسم - تقطف )

٣- "الأزهار " بها لام ( قمرية - شمسية )

اختر الكلمة المناسبة من بين الأقواس ( هو - هي - إلى - في ) :-

- أذهب ..... المدرسة صباحًا.
- أذهب ..... البيت .
- أذهب ..... النادي .
- يرسم فراشة بالقلم .

النشاط الثالث ( أ ) رتب الحروف وكون اسم الصورة ، ثم اكتبه مكان النقط :




( ز - بُ - ج )

.....



( ب - ف - ن )

.....



( ح - ل - ب )

.....

( ب ) ضَع ( هذا -- هذه - هؤلاء ) مكان النقط :-

- ١- ..... شمس .
- ٢- ..... تلميذات .
- ٣- ..... دب .



**1- Look and match the word with the picture.**

1- flower



2- rain



3- tree



4- queen



**2-Look and circle the correct picture.**

1- sunny



2- grass



3- soup



### 3- Count and match

1- four



2- Three



3- Two



نشاط ١: ضع كل كلمة من الكلمات الآتية في مكانها الخالي كما جاءت في سورة " الفاتحة " :

(الصَّرَطُ - وَإِيَّاكَ - الْمَلَمِيَّتْ - أَنْعَمْتَ - يَوْمِ - الرَّجِيمِ)

قال الله ﷻ: ﴿بِسْمِ اللَّهِ الرَّحْمَنِ الرَّحِيمِ ① الْحَمْدُ لِلَّهِ رَبِّ ② الرَّحْمَنِ ③

مَلِكِ ④ الَّذِينَ ⑤ إِيَّاكَ نَعْبُدُ ⑥ نَسْتَعِينُ ⑦ أَهْدِنَا ⑧ الْمُسْتَقِيمَ ⑨ صِرَاطَ

الَّذِينَ ..... عَلَيْهِمْ غَيْرِ الْمَعْضُوبِ عَلَيْهِمْ وَلَا الضَّالِّينَ ⑩﴾

نشاط ٢ : رتب أركان الوضوء الآتية ترتيباً صحيحاً :

- ١- .....
- ٢- .....
- ٣- .....
- ٤- .....
- ٥- .....

- غسل الرجلين إلي الكعبين .
- غسل اليدين إلي المرفقين .
- غسل الوجه .
- مسح الرأس .
- النية .

نشاط ٣ : خير الإجابة الصحيحة مما بين القوسين فيما يلي :

- ١- سيدنا إسماعيل عليه السلام ابن نبي الله : ( يعقوب عليه السلام - موسى عليه السلام - إبراهيم عليه السلام )
- ٢- مصير من ثقلت موازينه يوم القيامة : ( نار حامية - عيشة راضية - عذاب شديد )
- ٣- أول سنة من سنن الوضوء : ( التسمية - غسل الوجه - مسح الأذنين )
- ٤- ألقى إخوة يوسف عليه السلام أخاهم يوسف عليه السلام في : ( البحر - النهر - البئر )
- ٥- السورة التي تتحدث عن زلزال يوم القيامة سورة : ( العاديات - الزلزلة - الغاشية )

نشاط ٤: صل من العمود ( أ ) ما يناسبه من العمود ( ب ) :

( أ )	( ب )
١- يجب علينا أن نكون	الأمور التي تفسد الوضوء وتبطله .
٢- تتكون الأسرة من	يجب عليه الوضوء .
٣- حب الأسرة وصلة الرحم سبب في	الأب والأم والإخوة والأخوات .
٤- الذي يريد الصلاة	بارين بوالدينا .
٥- نواقض الوضوء هي	رضا الله ( تعالي )

النشاط الأول: قم بتلوين هذه الصورة واكتب عنواناً لها :-



النشاط الثاني : ضع الكلمات الصحيحة في المكان المناسب :-

( الخيرات - ملكوتك - السماوات )

- ١- "ليتقدس اسمك. ليأتِ ..... لتكن مشيئتك "
- ٢- " فلنشكر صانع ..... الرحوم الله ."
- ٣- " أبانا الذي في ..... ليتقدس اسمك. "

النشاط الثالث: ضع علامة ( √ ) أمام العبارة الصحيحة وعلامة ( × ) أمام العبارة غير الصحيحة :-

- ١- كان الغراب يحضر الطعام لـ إيليا النبي كل يوم. ( )
- ٢- رأى نوح النبي شجرة مشتعلة بالنار ولا تحترق. ( )
- ٣- قدم المجوس هدايا للطفل يسوع ذهب ولبان ومر. ( )

النشاط الرابع: صل العبارات الآتية بما يناسبها من الصور المقابلة :-



أ

١- أطاع نوح الله وأكمل بناء الفلك



ب

٢- أسس الرب يسوع سر التناول في عليية صهيون.



ج

٣- سامح الرب يسوع الذين صلبوه.

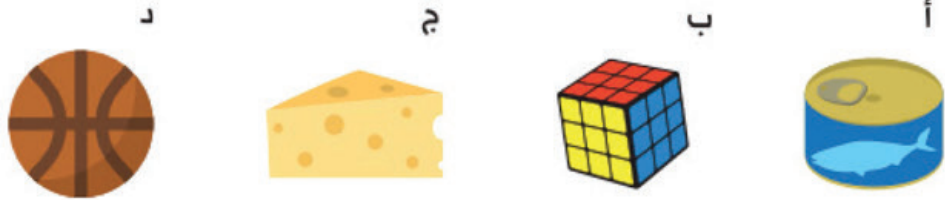


د

٤- الله أرسل ملاكه وسد أفواه الأسود.

## نشاط ١

(أ) أي شكل يشبه ؟ 



(ب) أكتب عددًا داخل

① العدد الناتج من جمع ٦٠ و ٨ هو

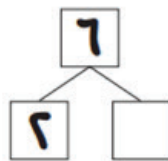
② الجملة الرياضية :  $60 + \square = \square$

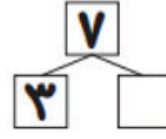
(ج) هناك ٣ دراجات حمراء، و ٤ دراجات زرقاء. كم إجمالي عدد الدراجات؟



## نشاط ٢

(أ) أكمل .

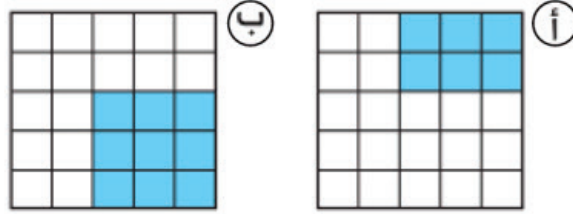




ب) هناك ٩ قطع حلوى . أكلت منها ٣ قطع . كم تبقى لديك؟ اكتب الجملة الرياضية والإجابة .



ج) أي جزء ملون أكبر؟



نشاط ٣









































أ) أنظر إلى الصورة ، ثم أجب .



كم عدد الاطفال فى الصف ؟

ما ترتيب حسن من الأمام ؟

ب) عد الخضروات ثم قم بالتلوين حسب العدد .

			
			
			
			
			
			
			
			
			
			
الباذنجان	الخيار	البصل	الطماطم



ج) ضع دائرة حول العدد الأكبر .

٤٧    ٥٤

د) ما العدد الذي يجب وضعه في □ ؟

□ — □ — ٤٦ — ٤٧ — ٤٨ — □ — ٥٠ —

## نشاط (١) :

## أجزاء النبات



استخدم بنك الكلمات لكتابة أسماء أجزاء النبات. صل جزء النبات بوظيفته.

الساق

الجنور

الزهرة

الأوراق

تُثبِتُ النبات في الأرض.  
تمتص  
الماء من التربة.

يحافظ على النبات في  
وضع قائم. ينقل الماء  
من الجنور إلى الأجزاء  
المختلفة من النبات.

تسمح بدخول الهواء.  
تستخدم ضوء الشمس في  
صنع الغذاء.

تتكون بها البذور.




## نشاط (٢) :



## النظام الغذائي اليومي






ضع دائرة حول الطعام الصحي الذي يجب أن تناوله يوميًا. أكمل الجملة.



طعام صحي.

**النشاط الأول :**

أمامك مجموعة من الصور اكتب أمام كل صورة ما تعبر عنه :

<p>تم بناء هذا المعبد علي الضفة الغربية لنهر النيل تكريمًا للملكة .....</p>	
<p>تمثال أبو الهول يعد أكبر تمثال في العالم ويوجد في محافظة .....</p>	
<p>وسائل نقل .....</p>	
<p>وسيلة نقل .....</p>	

**النشاط الثاني :**

لك صديق يريد زيارة بلدك الحبيب مصر أي الأماكن تنصحه بزيارتها:

- ١- .....
- ٢- .....
- ٣- .....
- ٤- .....

**النشاط الثالث : أنواع الموارد المائية**

حدد أي الصور تعبر عن المياه العذبة وأي الصور تعبر عن المياه المالحة



..... مياه



..... مياه

**النشاط الرابع :**

أمامك عدة علامات هيروغليفية يتكون منها اسم عاصمة لمصر أسسها الملك مينا

..... هي



حياة



مياه



بومة



ملف تقييم الأداء

باللغة العربية

الدور  
الثاني | 2026

الصف الأول الابتدائي